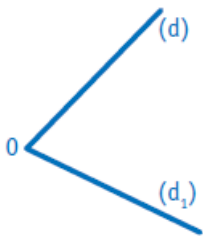


Prénom : Date :

Les angles

- Identifier et comparer des angles avec une équerre, un gabarit.
- Tracer des angles.

1. Complète le texte et colorie l'angle en rouge.



O est le de l'angle.

Cet angle est formé par deux

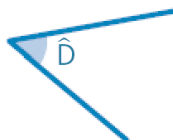
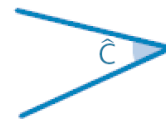
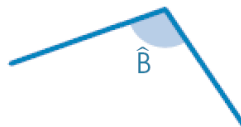
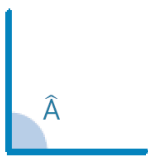
.....

.....

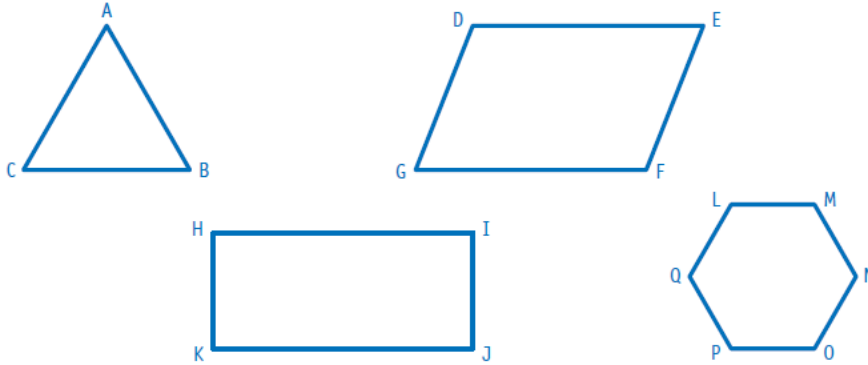
.....

2. Classe les angles ci-dessous dans le tableau.

| Angles aigus | Angles droits | Angles obtus |
|--------------|---------------|--------------|
| | | |

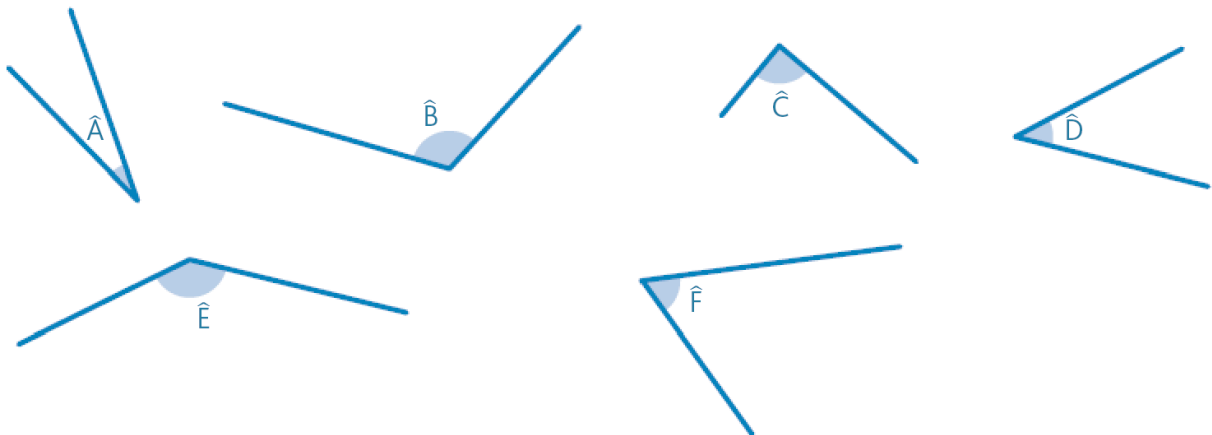


3. Observe les figures. Complète le tableau.



| Figures | Nombre d'angles aigus | Nombre d'angles droits | Nombre d'angles obtus |
|---------|-----------------------|------------------------|-----------------------|
| ABC | | | |
| DEFG | | | |
| HIJK | | | |
| LMNOPQ | | | |

4. Décalle l'angle \hat{A} , puis range ces angles du plus petit au plus grand.



$\hat{A} < \dots < \dots < \dots < \dots < \dots$